



1. Respecto de los dispositivos de regulación del tránsito, señale el enunciado correcto.
- A) Los peatones están obligados a su obediencia cuando se trate de semáforos peatonales.
  - B) Los conductores están obligados a su obediencia aun cuando hay sospecha de funcionamiento defectuoso.
  - C) Los conductores y los peatones están obligados a su obediencia, salvo instrucción en contrario de un efectivo de la Policía Nacional del Perú asignada al tránsito que indique lo contrario. \*
  - D) Los conductores están obligados a su obediencia, aun cuando un efectivo de la Policía Nacional del Perú asignada al tránsito pueda indicar lo contrario.

Referencia bibliográfica: Artículo 38 del Texto Único Ordenado Del Reglamento Nacional De Tránsito - Código de Tránsito Decreto Supremo N° 016-2009-MTC.

2. De acuerdo con el *Texto Único Ordenado del Reglamento Nacional de Tránsito*, está permitido en la vía
- A) efectuar trabajos de mecánica en casos de emergencia. \*
  - B) destinar las calzadas a otro uso que no sea el tránsito y el estacionamiento.
  - C) ejercer el comercio ambulatorio o estacionario.
  - D) colocar en la calzada o en la acera, elementos que obstruyan la libre circulación.

Referencia bibliográfica: Artículo 24 del Texto Único Ordenado del Reglamento Nacional de Tránsito - Código De Tránsito Decreto Supremo N° 016-2009-MTC.

3. Se define como zona rígida al área
- A) donde se prohíbe la circulación de vehículos.
  - B) donde se prohíbe la circulación de peatones.
  - C) de la vía en la que se prohíbe el estacionamiento de vehículos. \*
  - D) peatonal o preferente.

Referencia bibliográfica: Balotario Clase A Categoría I, pregunta 52







4. De acuerdo con el *Texto Único Ordenado del Reglamento Nacional de Tránsito*, marque el enunciado INCORRECTO.
- A) El conductor debe abstenerse de conducir, si muestra cansancio o si ha estado tomando medicamentos que puedan causarle efectos secundarios e inducirlo al sueño.
  - B) El conductor no debe compartir su asiento frente al timón con otra persona, animal o cosa, ni permitir con el vehículo en marcha, que otra persona tome el control de la dirección.
  - C) El conductor debe conducir con ambas manos sobre el volante de dirección, excepto cuando es necesario realizar los cambios de velocidad o accionar otros comandos.
  - D) El conductor mientras esté conduciendo puede hacer uso de dispositivo móvil u objeto portátil, siempre que no lo distraiga de la conducción del vehículo. \*

Referencia bibliográfica: Artículos 84, 85, 86 y 88 del Texto Único Ordenado Del Reglamento Nacional De Tránsito - Código De Tránsito Decreto Supremo N° 016-2009-MTC.

5. De acuerdo con los límites de velocidad en carreteras que cruzan centros poblados y otros, señale el enunciado correcto.
- A) En zonas comerciales y residenciales: 35 Km/h y en zonas escolares / hospitales: 20 Km/h.
  - B) En zonas comerciales: 30 Km/h, en zonas residenciales: 50 Km/h y en zonas escolares / hospitales: 30 Km/h. \*
  - C) En zonas comerciales: 50 Km/h, en zonas residenciales: 60 Km/h y en zonas escolares / hospitales / cementerios: 20 Km/h.
  - D) En zonas comerciales y residenciales: 50 Km/h, en zonas escolares: 20 Km/h, en zonas escolares: 30 Km/h y en zonas de cementerio: 60 Km/h.

Referencia bibliográfica: Artículo 164 del Texto Único Ordenado Del Reglamento Nacional De Tránsito - Código De Tránsito Decreto Supremo N° 016-2009-MTC.

6. En cuanto a las señales de tránsito, correlacione la imagen de la izquierda y la columna de la derecha.

- |      |   |   |
|------|---|---|
| i.   |   | a. Ensanchamiento de la calzada en ambos lados    |
| ii.  |  | b. Reducción de calzada lado derecho              |
| iii. |  | c. Reducción del carril externo al lado derecho   |
| iv.  |  | d. Reducción del carril externo al lado izquierdo |
| v.   |  | e. Reducción de calzada a lado izquierdo          |
| vi.  |  | f. Reducción de calzada a ambos lados             |



- A) If, IIb, IIIe, IVc, Vd, VIa \*
- B) Ia, IIb, IIIc, IVe, Vd, VI f
- C) Ia, IIb, IIIc, IVd, Ve, VI f
- D) If, IId, IIIb, IVc, Ve, VIa

Referencia bibliográfica: Numeral 2.3.7 Señales preventiva por restricciones físicas de la vía del Manual de dispositivos de Control de tránsito Automotor para calles y Carreteras.

**7. ¿Cuál es el propósito de las señales de prevención?**

- A) Notificar a los usuarios, las limitaciones, restricciones, prohibiciones y/o autorizaciones existentes que gobiernan el uso de la vía.
- B) Informar a los usuarios, sobre los principales puntos notables, lugares de interés turístico, arqueológicos e históricos existentes en la vía.
- C) Advertir a los usuarios sobre la existencia y naturaleza de riesgos y/o situaciones imprevistas presentes en la vía o en sus zonas adyacentes, ya sea en forma permanente o temporal. \*
- D) Identificar los carriles y cabinas de pago manual, carriles exclusivos y dispositivos para pago electrónico, estructura tarifaria, carriles para vehículos exonerados de pago, elementos de seguridad vial y otros.

Referencia bibliográfica: Numeral 2.3 Señales de Prevención del Manual de dispositivos de Control de tránsito Automotor para calles y Carreteras.

**8. Respecto de la conducción vehicular, marque la afirmación INCORRECTA.**

- A) El efectivo policial podrá impedir la continuación de la marcha, a todo conductor que denote discapacidad física no contemplada en la licencia de conducir.
- B) El conductor debe acatar las disposiciones reglamentarias que rigen el tránsito y las indicaciones del serenazgo y la policía, cuando apoyan al control del tránsito. \*
- C) El conductor sólo debe utilizar la bocina del vehículo que conduce para evitar situaciones peligrosas y no para llamar la atención de forma innecesaria.
- D) El conductor al detener el vehículo que conduce en la vía pública, lo hará en forma que no obstaculice el tránsito.

Referencia bibliográfica: Artículo 82, 95, 98, 108 del Texto Único Ordenado Del Reglamento Nacional De Tránsito - Código De Tránsito Decreto Supremo N° 016-2009-MTC.

**9. Si un vehículo es alcanzado por otro vehículo que tiene la intención de adelantarlo o sobrepasarlo, el conductor debe**

- A) mantener su posición y alinearse a su derecha.
- B) mantener su posición y no aumentar su velocidad. \*
- C) no aumentar su velocidad y cambiar al carril derecho.
- D) alinearse a su derecha, mantener su posición y no aumentar su velocidad.

Referencia bibliográfica: Artículo 170 del Texto Único Ordenado Del Reglamento Nacional De Tránsito - Código De Tránsito Decreto Supremo N° 016-2009-MTC.



**10.** ¿Quién tiene preferencia de paso en una intersección no regulada?

- A) El vehículo de mayor tamaño
- B) Cualquier vehículo, siempre que se encuentre a su derecha
- C) El vehículo que vaya a mayor velocidad
- D) El vehículo que hubiere ingresado primero a la intersección \*

Referencia bibliográfica: Artículo 179 del Texto Único Ordenado del Reglamento Nacional De Tránsito - Código De Tránsito Decreto Supremo N° 016-2009-MTC.

**11.** ¿Quién tiene preferencia de paso en una rotonda?

- A) El vehículo que circula por ella en el carril izquierdo.
- B) El vehículo que circula por ella, y se alinea a la salida.
- C) El vehículo que circula debe salir primero, antes de que ingrese un segundo vehículo.
- D) El vehículo que circula por ella respecto al que intenta ingresar. \*

Referencia bibliográfica: Artículo 181 del Texto Único Ordenado del Reglamento Nacional De Tránsito - Código De Tránsito Decreto Supremo N° 016-2009-MTC.

**12.** ¿Cuándo se debe utilizar obligatoriamente las luces direccionales?

- A) Para cambiar de carril, cuando se encuentra en el carril contrario.
- B) Para girar, cuando se encuentra en el carril contrario.
- C) Para girar o cambiar de carril. \*
- D) Su uso no es obligatorio, debido que se puede reemplazar con señales manuales.

Referencia bibliográfica: Artículo 199 del Texto Único Ordenado Del Reglamento Nacional De Tránsito - Código De Tránsito Decreto Supremo N° 016-2009-MTC.

**13.** ¿Cuál es la consecuencia de acumular 100 puntos en la licencia de conducir en un período de 24 meses?

- A) Suspensión de licencia de conducir. \*
- B) Anulación de la Placa Única Nacional de Rodaje.
- C) Inhabilitación definitiva para obtener una licencia de conducir.
- D) Internamiento vehicular.

Referencia bibliográfica: Balotario Clase A Categoría I, pregunta 52

**14.** En los tramos de una vía con pendiente pronunciada, que permite la circulación de un solo vehículo, se debe de tener en cuenta que el vehículo que asciende respecto al vehículo que desciende

- A) no tiene preferencia de paso.
- B) tiene preferencia de paso. \*
- C) debe detenerse.
- D) debe retroceder.

Referencia bibliográfica: Balotario Clase A Categoría I, pregunta 41



- 15.** Si un conductor está tomando medicamentos y por ello siente sueño, ¿qué debe hacer?
- A) Manejar normalmente.
  - B) Manejar despacio.
  - C) Manejar con un copiloto.
  - D) Abstenerse de manejar. \*

Referencia bibliográfica: Balotario Clase A Categoría I, pregunta 39

- 16.** Las luces intermitentes de emergencia del vehículo deben utilizarse obligatoriamente
- A) para dar vuelta en U y para advertir los cambios de carril.
  - B) durante toda la circulación del vehículo.
  - C) para indicar la detención, parada o estacionamiento en zona peligrosa o la ejecución de maniobras riesgosas. \*
  - D) en cada intersección cuando se visibilice otro vehículo.

Referencia bibliográfica: Balotario Clase A Categoría I, pregunta 29

- 17.** ¿Cuál de los siguientes seguros es exigible para conducir un vehículo automotor?
- A) El Seguro Obligatorio de Accidentes de Tránsito - SOAT. \*
  - B) Cualquier tipo de seguro de accidentes personales que comercialicen las empresas de seguro.
  - C) Cualquier tipo de seguro vehicular, siempre que cubra a los ocupantes del vehículo y terceros afectados por un accidente de tránsito.
  - D) El Seguro Obligatorio de Accidentes de Tránsito de vehículos asignados a entidades públicas.

Referencia bibliográfica: Balotario Clase A Categoría I, pregunta 24

- 18.** Son documentos que deben portarse obligatoriamente, durante la conducción del vehículo, y exhibirse cuando la autoridad competente lo solicite.
- A) Certificado de Inspección Técnica Vehicular y contrato de compraventa del vehículo.
  - B) Documento de identidad, contrato de compraventa del vehículo.
  - C) Documento de identidad, SOAT vigente (puede ser virtual) y Certificado de Inspección Técnica Vehicular.
  - D) Documento de identidad, SOAT vigente (puede ser virtual) y tarjeta de identificación vehicular. \*

Referencia bibliográfica: Balotario Clase A Categoría I, pregunta 40



- 19.** Está permitido que los conductores estacionen los vehículos que conducen en el siguiente caso:
- A) Sobre las aceras, pasos peatonales y rampas destinadas a la circulación de personas minusválidas.
  - B) A más de 10 metros de un paso peatonal o de una intersección. \*
  - C) En doble fila, respecto a otros vehículos ya estacionados, parados o detenidos junto a la acera, cuneta o borde exterior.
  - D) Frente a entradas de garajes y de estacionamientos públicos o a la salida de una vía privada.

Referencia bibliográfica: Artículo 217 del Texto Único Ordenado Del Reglamento Nacional De Tránsito - Código de Tránsito Decreto Supremo N° 016-2009-MTC

- 20.** En cuanto a las responsabilidades administrativas, indique el enunciado INCORRECTO.
- A) El conductor de un vehículo es responsable administrativamente de las infracciones de tránsito vinculadas a su propia conducta durante la circulación.
  - B) Cuando una infracción de tránsito se encuentre tipificada en otros reglamentos nacionales, siempre se aplicará el Reglamento Nacional de Tránsito. \*
  - C) Cuando no se llegue a identificar al conductor infractor, se presume la responsabilidad administrativa del propietario del vehículo.
  - D) Constituye atenuante para la sanción la existencia de una necesidad o urgencia que pueda verificarse, siempre que guarde relación con la infracción cometida.

Referencia bibliográfica: Artículo 289 y 290 del Texto Único Ordenado Del Reglamento Nacional De Tránsito - Código de Tránsito Decreto Supremo N° 016-2009-MTC